

**DOKUMEN KHUSUS
SANGAT RAHASIA**



TES KEMAMPUAN DASAR (TKD)

KEMENTERIAN AGAMA

TES BAKAT SKOLASTIK GOLONGAN III

**KODE SOAL CPNS
B080303**

**SOAL UJIAN SELEKSI PENERIMAAN
CALON PEGAWAI NEGERI SIPIL (CPNS)
REPUBLIK INDONESIA**

CPNSONLINE INDONESIA

Pertama di Indonesia....

EBook CPNSONLINE

Terlengkap dan Terbaik

[**www.cpnsonline.com**](http://www.cpnsonline.com)



DEPARTEMEN AGAMA R.I.

SEKRETARIAT JENDERAL

Jalan Lapangan Banteng Barat Nomor 3 – 4 Jakarta

Telepon 3811244, 3811642, 3811654, 3811658, 3811779, 3812216, 3509472



RAHASIA

UJIAN PENERIMAAN CALON PEGAWAI NEGERI SIPIL DEPARTEMEN AGAMA TAHUN 2005

NASKAH SOAL TES BAKAT SKOLASTIK GOLONGAN III

WAKTU PELAKSANAAN :

HARI : SELASA
TANGGAL : 25 OKTOBER 2005
LAMANYA : 90 MENIT

PETUNJUK :

1. Periksa terlebih dahulu lembar jawaban komputer yang saudara terima apakah baik atau tidak, karena lembar jawaban komputer tidak boleh rusak, terlipat, sobek atau buram.
2. Pengisian lembar jawaban komputer harus menggunakan **pensil 2B**, tidak bisa dengan pensil biasa.
3. Untuk melakukan corat-corek lakukan di sisi kosong pada naskah soal yang saudara terima.
4. Isilah nomor ujian dan data anda sesuai dengan permintaan pada kolom yang tersedia dalam formulir lembar jawaban komputer.
5. Seluruh jawaban dikerjakan pada lembar jawaban komputer yang telah disediakan.
6. Baca dan teliti soal serta kerjakan dengan tenang (boleh mengerjakan lebih dahulu soal yang dianggap mudah).
7. Mata ujian terdiri dari 100 (Seratus) soal, untuk satu soal dapat diselesaikan dalam waktu + 1 menit.
8. Setelah selesai agar naskah soal dan lembar jawaban komputer ditinggal di atas kursi/meja ujian dalam keadaan terbalik.

PERHATIAN www.cpnsonline.com

DALAM PELAKSANAAN PENERIMAAN CALON PEGAWAI NEGERI SIPIL INI
TIDAK DIPUNGUT BIAYA APAPUN DAN TIDAK BERHUBUNGAN DENGAN ORANG
YANG MENAWARKAN JASA

PILIH LAH JAWABAN YANG PALING BENAR, DENGAN CARA MENGHITAMKAN SETIAP LINGKARAN (●) YANG SESUAI DENGAN HURUF YANG ANDA PILIH PADA LEMBAR JAWABAN KOMPUTER YANG TERSEDIA

PERTANYAAN

I. MEMILIH KESENANGAN

Pernyataan–pernyataan dibawah ini adalah uraian singkat tentang berbagai kegiatan. Tugas anda adalah memilih salah satu kegiatan dari setiap nomor yang paling anda senangi. Anda harus memilih salah satu dari kegiatan tersebut meskipun sebetulnya semua kegiatan itu tidak anda senangi atau semuanya anda senangi.

Perlu diketahui bahwa tidak ada pilihan yang salah atau betul. Pilihlah yang sesuai dengan apa yang paling anda senangi.

www.cpnsonline.com

1. A. Membersihkan rumah
B. Mengasuh anak yang orangtuanya sedang pergi
C. Menggambar pemandangan yang indah
D. Bermain piano
E. Mencoba membetulkan motor yang rusak
2. A. Mengunjungi museum benda–benda antik
B. Mengunjungi museum tekstil
C. Mengunjungi museum transportasi
D. Mengunjungi museum ilmu pengetahuan/ IPTEK
E. Mengunjungi museum prajurit
3. A. Mengunjungi pameran elektronik
B. Mengunjungi pameran alat-alat laboratorium
C. Mengunjungi pameran otomotif
D. Mengunjungi pameran buku
E. Mengunjungi pameran lukisan
4. A. Melatih ketrampilan memasak pada ibu–ibu
B. Melatih ketrampilan pidato
C. Melatih para buruh
D. Memberi motivasi pada orang lain
E. Melatih ketrampilan pada para remaja
5. A. Memperhatikan kerumunan orang
B. Memperhatikan pemandangan alam
C. Memperhatikan tanaman
D. Memperhatikan hewan–hewan
E. Memperhatikan alat–alat elektronik
6. A. Mengikuti kursus menjahit
B. Mengikuti kursus Akuntansi
C. Mengumpulkan perangko
D. Membaca di perpustakaan
E. Mengikuti kursus montir
7. A. Menonton tayangan musik di TV
B. Menonton acara cerdas cermat/cepat tepat di TV
C. Menonton mimbar Agama
D. Mendengarkan siaran iklan di radio
E. Menonton film horor di TV
8. A. Membaca cerpen dan Novel
B. Membaca Buku Komik
C. Membaca tabloid
D. Membaca Koran dan majalah Bisnis
E. Membaca Biografi orang-orang sukses
9. A. Membantu memecahkan masalah orang lain
B. Menanam bunga–bunga
C. Menggambar rancangan rumah
D. Memotret pemandangan alam
E. Mengetik surat–surat
10. A. Membantu orang lain menyelesaikan masalah/problem
B. Bekerja di bengkel mobil
C. Mendesain interior rumah
D. Menjadi juru kamera
E. Menebang pohon

11. A. Menulis di koran, majalah dan buku
B. Memperbaiki mesin diperusahaan
C. Mengurus pembukuan suatu perusahaan
D. Menghitung upah buruh disuatu perusahaan
E. Mencatat dan menagih uang langganan koran
www.cpnsonline.com
12. A. Menggantikan tugas guru untuk mengajar
B. Mengelola yayasan pendidikan
C. Mengurus Panti Asuhan
D. Menjadi Pengurus pengajian
E. Menjadi Ketua RT, RW atau Lurah
13. A. Mengelola sanggar senam
B. Mengelola klub sepak bola
C. Mengajar olah raga
D. Membuka sanggar tari
E. Mengelola salon kecantikan
14. A. Mengurus toko atau restoran
B. Menanam bawang atau sayuran
C. Memperbaiki dan merenovasi rumah
D. Mengurus kolam pembibitan ikan
E. Mengadakan penelitian ilmiah
15. A. Memimpin Perusahaan Surat kabar atau majalah
B. Mengajar di Sekolah
C. Menulis di Surat kabar atau majalah
D. Memimpin Organisasi Sosial
E. Mengurus Perguruan Tinggi
16. A. Menulis skenario drama
B. Menolong orang menghindari kecelakaan
C. Membuat anyaman dan kerajinan tangan
D. Menanam bunga untuk dijual
E. Mengasuh anak-anak
17. A. Memimpin anak-anak dalam kegiatan diskusi dan pembelajaran
B. Memimpin anak-anak dalam kegiatan permainan
C. Memimpin anak-anak dalam kegiatan karyawisata
D. Memimpin anak-anak dalam kegiatan kerohanian
E. Memimpin anak-anak dalam kegiatan perkemahan
18. A. Membantu menyelesaikan masalah perkalahian
B. Membantu menyelesaikan masalah rumah tangga
C. Membantu mengerjakan kebersihan lingkungan
D. Membantu mengerjakan PR
E. Membantu menjelaskan pelajaran yang sulit
19. A. Mengoreksi pekerjaan orang secara teliti untuk diperbaiki
B. Mengatur arsip-arsip dikantor
C. Menyelidiki tanah untuk mengetahui kadar mineralnya
D. Merawat anak-anak atau anggota keluarga yang sakit
E. Menyablon spanduk-spanduk
20. A. Mengurus Yayasan Sosial
B. Menanggapi pertanyaan orang lain dengan antusias
C. Mencuci dan menyetrika pakaian
D. Menemukan cara untuk menambah produksi tanaman
E. Memeriksa alat-alat perkantoran
21. A. Menulis cerita pendek
B. Berpidato dengan semangat tinggi
C. Menjelaskan materi/gagasan dengan jelas
D. Bercerita tentang pengalaman pribadi kepada orang lain
E. Menulis Biografi
22. A. Merajut syal atau pakaian bayi
B. Memimpin paduan suara
C. Membimbing anak-anak dan remaja pada kegiatan yang positif

- D. Memberi nasehat pada orang lain
 - E. Membuat roti
23. A. Merencanakan suatu kegiatan secara detail dan tertulis
- B. Merencanakan kegiatan sesuai dengan kondisinya
 - C. Melakukan kegiatan sesuai dengan kebiasaan yang ada
 - D. Melakukan kegiatan secara spontan
 - E. Melakukan kegiatan dengan alat-alat dan media yang ada
24. A. Membuat laporan keuangan
- B. Menawarkan barang-barang ke orang lain
 - C. Merawat tanaman di kebun
 - D. Menjelaskan sesuatu hal yang memang sangat dikuasai
 - E. Berani menyampaikan sesuatu hal yang baru
25. A. Memberikan penghargaan terhadap prestasi orang lain
- B. Menolak kritik dari orang lain
 - C. Tidak peduli terhadap prestasi orang lain
 - D. Mengakui prestasi orang lain
 - E. Selalu menjadi yang terbaik
26. A. Membimbing pembuatan kartu-kartu ucapan selamat
- B. Menjual kartu-kartu ucapan selamat
 - C. Mengawasi pembuatan kartu-kartu ucapan selamat
 - D. Menetapkan harga kartu-kartu ucapan selamat
 - E. Merancang bentuk-bentuk kartu ucapan selamat
27. A. Merancang program TV untuk anak-anak
- B. Bermain dengan anak-anak
 - C. Membaca buku tentang anak
 - D. Memberi nasehat pada orang lain
 - E. Membuat roti
- D. Memeriksa cetakan percobaan buku untuk anak-anak
- E. Membuat permainan anak-anak
28. A. Terkenal sebagai orang yang selalu gembira
- B. Terkenal sebagai orang yang dermawan
 - C. Terkenal sebagai orang yang sukses
 - D. Terkenal sebagai orang yang adil
 - E. Terkenal sebagai orang yang dapat dipercaya
29. A. Bekerja di laut
- B. Bekerja dibelakang meja
 - C. Bekerja dengan orang-orang
 - D. Bekerja di laboratorium
 - E. Bekerja di alam terbuka
30. A. Meminta penghargaan dari orang lain
- B. Meminta imbalan yang tinggi
 - C. Bekerja sama dengan orang lain
 - D. Memberikan perintah kepada orang lain
 - E. Menarik perhatian orang lain
31. A. Mendengarkan pembicaraan orang lain
- B. Menyalahkan pembicaraan orang lain
 - C. Mengajukan pertanyaan yang sulit kepada pembicara
 - D. Memberikan banyak pertanyaan kepada pembicara
 - E. Mendebat pembicaraan orang lain
32. A. Membaca tulisan berbagai penulis mengenai dunia yang dicita-citakan
- B. Membaca riwayat orang-orang termashur dalam penghidupan sehari-hari
 - C. Membaca tulisan-tulisan tentang upaya pengembangan diri
 - D. Membaca tulisan-tulisan tentang cara mengatasi anak-anak bermasalah
 - E. Membaca riwayat hidup pelopor-pelopor bangsa

- 33. A. Mengajar anak-anak bermasalah
- B. Mengajar anak-anak yang cerdas
- C. Mengajar anak-anak yang rajin
- D. Mengajar anak-anak yang penurut
- E. Mengajar anak-anak normal

www.cpnsonline.com

- 34. A. Ada seseorang yang dipercayai selalu memberi masukan dalam pengambilan keputusan
- B. Mengambil keputusan sendiri
- C. Ada seseorang yang dipercayai selalu mengambil keputusan untuk saya
- D. Ada seseorang yang dipercayai sekali-kali mengambil keputusan untuk saya
- E. Ada seseorang yang dipercayai bisa memberi masukan dalam pengambilan keputusan

- 35. A. Menilai kinerja seseorang dan menunjukkan kesalahan yang dilakukan oleh orang yang dinilai
- B. Menilai kinerja seseorang dan memberi sanksi atas kesalahan yang dilakukan oleh orang yang dinilai
- C. Menilai kinerja seseorang dan memberi pujian kepada orang yang dinilai
- D. Menilai kinerja seseorang tanpa memberitahukan hasilnya kepada orang yang dinilai
- E. Menilai kinerja seseorang dan membicarakan hasilnya kepada orang yang dinilai

- 36. A. Kalau bepergian memperhatikan pemandangan alam
- B. Kalau bepergian memperhatikan gedung-gedung
- C. Kalau bepergian memperhatikan tingkah laku orang
- D. Kalau bepergian memperhatikan benda-benda antik
- E. Kalau bepergian memperhatikan orang

- 37. A. Menulis cerita
- B. Mengoleksi buku
- C. Mengunjungi museum
- D. Membaca-baca diperpustakaan
- E. Memancing

- 38. A. Mengubah lagu
- B. Memainkan alat musik
- C. Mendengarkan musik
- D. Melihat tayangan VCD musik
- E. Bernyanyi bersama

- 39. A. Membongkar permainan anak-anak untuk mengetahui cara membetulkannya
- B. Membeli mainan untuk anak-anak
- C. Membuat karangan
- D. Membersihkan rumah
- E. Membacakan cerita

- 40. A. Mengikuti kursus kesehatan
- B. Mengikuti kursus bahasa asing
- C. Mengikuti kursus kepribadian
- D. Mengikuti kursus ketrampilan
- E. Mengikuti kursus menggambar sketsa

- 41. A. Bergaul dengan orang-orang yang sering memberikan bantuan
- B. Bergaul dengan orang-orang biasa
- C. Bergaul dengan orang yang mempunyai pandangan-pandangan luar biasa
- D. Bergaul dengan orang-orang yang tingkah lakunya serba menarik
- E. Bergaul dengan orang-orang yang membutuhkan bimbingan

- 42. A. Mengajar anak-anak untuk membuat model-model kapal terbang
- B. Mengarang artikel untuk suatu surat kabar
- C. Memandu perjalanan wisata ketempat bersejarah
- D. Mengumpulkan artikel-artikel tentang pengusaha sukses
- E. Memimpin penyelidikan tentang terorisme

www.cpnsonline.com

TES BAKAT SKOLASTIK GOL. III

43. A. Mengorganisir pelatihan
 B. Mewawancarai pelamar-pelamar pekerjaan
 C. Mengarang artikel untuk suatu surat kabar
 D. Mengadakan penyelidikan kasus korupsi
 E. Mengoperasikan komputer

www.cpnsonline.com

44. A. Menggambar desain gedung sekolah
 B. Menyantuni anak-anak yatim
 C. Membentuk kelompok-kelompok belajar pengetahuan dasar
 D. Melatih olahraga bela diri
 E. Memimpin perusahaan penerbitan

45. A. Menjadi perancang berbagai media pembelajaran
 B. Menjadi ahli dalam pengelolaan pembelajaran
 C. Menjadi pimpinan di suatu lembaga pendidikan
 D. Menjadi peneliti utama dalam suatu bidang pengetahuan
 E. Menjadi penulis buku-buku ajar

46. A. Membacakan cerita untuk orang sakit
 B. Menyediakan obat untuk orang sakit
 C. Berbelanja untuk orang sakit
 D. Membuat teka-teki silang untuk orang sakit
 E. Menunggu orang sakit

47. A. Menjadi pegawai kantor
 B. Mengarahkan para remaja dilingkungan sekitar
 C. Memelihara perlengkapan kedokteran
 D. Melatih pemain sepak bola, bulu tangkis atau olah raga lainnya
 E. Berternak sapi atau hewan potong lainnya untuk dijual

48. A. Menggubah lagu
 B. Menulis puisi
 C. Mengikuti kursus untuk menambah wawasan tentang anak
 D. Mengunjungi pameran buku
 E. Membuat media peraga pendidikan

49. A. Membela kaum perempuan
 B. Membela perkara orang-orang dipengadilan
 C. Melindungi hak dan milik orang-orang yang taat hukum
 D. Melindungi hak-hak anak dan remaja
 E. Memperjuangkan orang-orang yang tertindas

50. A. Membuat atau mendirikan perpustakaan mini rumah
 B. Memfasilitasi kelompok musik bagi remaja rumah
 C. Membantu masyarakat memperbaiki kesehatan lingkungan
 D. Menjaga keamanan lingkungan
 E. Memberi penerangan pada masyarakat tentang kesadaran hukum

www.cpnsonline.com

II. KEMAMPUAN VERBAL

Soal 51 sampai 55 terdiri atas kalimat-kalimat. Pada setiap kalimat, satu kata hilang dan disediakan lima kata pilihan sebagai pengantinya. Pilihlah kata yang tepat yang dapat menyempurnakan kalimat itu.

51. Pengaruh seseorang terhadap orang lain seharusnya bergantung pada

- A. Kewibawaan
 B. Kekuasaan
 C. Bujukan
 D. Kekayaan
 E. Keberanian

52. tidak termasuk cuaca

- A. Gempa bumi
 B. Kabut
 C. Angin puyuh
 D. Halilintar
 E. Salju

53. Suatu pernyataan yang belum dipastikan dikatakan sebagai pernyataan yang
A. Mempunyai arti rangkap
B. Menyesatkan
C. Hipotesis
D. Paradoks
E. Tergesa-gesa
54. Suatu tidak menyangkut persoalan pencegahan kecelakaan
A. Kacamata pelindung
B. Kotak PPPK
C. Tanda peringatan
D. Palang kereta api
E. Lampu lalu lintas
55. Seseorang yang bersikap menyangsikan setiap kemajuan ialah seorang yang
A. Anarkis
B. Demokratis
C. Radikal
D. Liberal
E. Konservatif
- Soal 56 sampai 65 merupakan lima kata pilihan. Empat dari lima kata itu memiliki suatu kesamaan. Carilah kata yang tidak mempunyai kesamaan dengan keempat kata lainnya.
www.cpnsonline.com
56. A. Busur
B. Lengkungan
C. Lingkaran
D. Panah
E. Elips
57. A. Menjahit
B. Menggergaji
C. Memukul
D. Mengetuk
E. Memaki
58. A. Menyatukan
B. Melepaskan
C. Mengaitkan
D. Melekatkan
E. Mengikat
59. A. Saxophon
B. Biola
C. Seruling
D. Klarinet
E. Terompet
60. A. Penempatan
B. Pengerahan
C. Kebijaksanaan
D. Pendidikan
E. Perencanaan
61. A. Perkawinan
B. Pagar
C. Masyarakat
D. Jembatan
E. Batas
62. A. Memahat
B. Mengasah
C. Melicinkan
D. Menggosok
E. Mengetam
63. A. Obeng
B. Kunci
C. Palang pintu
D. Gerendel
E. Gunting
64. A. Tapisan
B. Jala
C. Saringan
D. Kelambu
E. Payung
65. A. Penunjuk jalan
B. Bintang Pari
C. Arah
D. Jam
E. Kompas

Soal 66 sampai 70, ditentukan tiga kata. Antara kata pertama dan kedua terdapat suatu hubungan tertentu. Antara kata ketiga dan salah satu diantara lima kata pilihan harus terdapat pula hubungan yang sama. Carilah kata itu !

www.cpnsonline.com

66. Lingkaran : Bola = Bujur sangkar :

- A. Piramida
- B. Bentuk
- C. Gambar
- D. Segi empat
- E. Kubus

67. Marah : Emosi = Duka cita :

- A. Sedih
- B. Rindu
- C. Suka cita
- D. Sakit hati
- E. Suasana hati

68. Ketinggian puncak : Tekanan udara = Ketinggian nada :

- A. Nyanyian
- B. Panjang senar
- C. Suara
- D. Garpu tala
- E. Sopran

69. Negara : Revolusi = Hidup :

- A. Keturunan
- B. Mutasi
- C. Seleksi
- D. Ilmu hewan
- E. Biologi

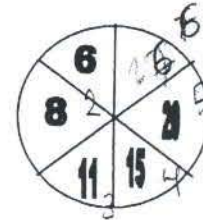
70. Olah ragawan : Lembing = Cendekiawan :

- A. Mikroskop
- B. Perpustakaan
- C. Penelitian
- D. Karya
- E. Studi

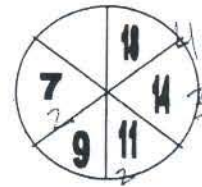
III. KEMAMPUAN KUANTITATIF

Pilihlah alternatif jawaban yang paling tepat untuk mengisi tempat yang masih kosong pada gambar berikut :

71. ~~A~~ 26
B. 30
C. 36
D. 35
E. 24



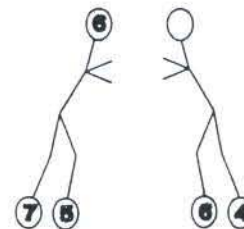
72. A. 18
B. 20
C. 22
D. 2
E. 4



73. A. 15
B. 17
C. 9
D. 13
E. 14

www.cpnsonline.com

74. A. 24
B. 2
C. 5
D. 10
E. 20



75. A. 4
B. 6
C. 8
D. 10
E. 3

76. Dalam suatu pertemuan dihadiri oleh 50 orang, 27 orang adalah laki-laki, 18 diantaranya memakai baju batik, yang memakai baju batik semuanya sebanyak 35 orang, maka banyaknya hadirin perempuan yang tidak memakai batik adalah:

- A. 12 orang
~~B. 6 orang~~
C. 7 orang
D. 8 orang
E. 10 orang

Handwritten calculations for question 76:
27
18
35
18
19

77. Sebanyak 30 orang mahasiswa suka pelajaran matematika dan filsafat. Yang suka matematika ada 27 orang dan 22

orang suka filsafat, maka yang suka matematika dan filsafat adalah:

- A. 11 orang
- ☒ B. 19 orang
- C. 3 orang
- D. 5 orang
- E. 8 orang


www.cpnsonline.com

78. Sebuah rumah dijual seharga Rp.80.000.000,-. Dari penjualan tersebut mendapat keuntungan 25% dari harga beli. Berapakah harga beli rumah tersebut?:

- A. Rp. 96.000.000,- $\frac{25}{100} \times 80 \text{ jt} = 20 \text{ jt}$
- B. Rp.100.000.000,-
- C. Rp.120.000.000,- $80 \text{ jt} - 20 \text{ jt} = 60 \text{ jt}$
- D. Rp. 20.000.000,-
- E. Rp. 64.000.000,-

79. $\frac{1}{4}$ berbanding $\frac{3}{5}$ adalah:

- A. 3 berbanding 4
- B. 3 berbanding 20
- C. 5 berbanding 4
- D. 5 berbanding 12
- ☒ E. 1 berbanding 3



80. Waktu di kota A lebih cepat 3 jam dari kota B. Sebuah pesawat terbang berangkat dari kota A menuju kota B pukul 05.00, dan tiba 4 jam kemudian. Pukul berapakah pesawat terbang tersebut tiba di kota B?

- A. 09.00
- B. 02.00
- C. 03.00
- D. 04.00
- ☒ E. 06.00

05.00 berangkat
↓ 4 jam
09.00 sampai
3 - 2 jam lebih cepat
06.00

81. Perbandingan sudut-sudut pada sebuah segi-tiga adalah 2 : 3 : 5. Segitiga apakah itu?

- A. Sama kaki
- B. Lancip
- ☒ C. Siku-siku
- D. Sama sisi
- E. Tumpul



www.cpnsonline.com




82. Rata-rata hitung usia kelompok dosen dan karyawan suatu perguruan tinggi 40 tahun. Jika rata-rata usia dosen adalah 35 tahun dan rata-rata umur karyawan 50 tahun. Perbandingan banyaknya dosen dan karyawan adalah :

- A. 2 : 1
- B. 1 : 2
- C. 3 : 2
- D. 3 : 1
- E. 2 : 3

$$\begin{array}{r} 35 \quad 50 \\ \hline 40 \quad 40 \end{array}$$

83. Sebuah rumah terletak 15 m sebelah selatan dari sebuah sekolah dan sekolah itu berada 30 m sebelah selatan dari jalan raya. Berapa meterkah jarak antara rumah dan jalan raya itu?:

- A. 45 m
- B. 50 m
- C. 55 m
- ☒ D. 15 m
- E. 30 m



84. A memintal benang 60 m, sedangkan B 40 m. Berapa meterkah yang dipintal A jika B memintal sepanjang 60 m?

- A. 80 m
- B. 70 m
- C. 100 m
- D. 120 m
- ☒ E. 90 m

$$\begin{array}{l} B. 40 \text{ m} \rightarrow 60 \text{ m} \\ \times 50\% \\ A. 60 \text{ m} \rightarrow 90 \text{ m} \\ \times 50\% \end{array}$$

85. Sebuah perusahaan mengeksport 3/4 dari produksinya dan menjual 4/5 dari sisanya itu di dalam negeri. Berapa % kah hasil produksi yang masih tinggal?

- ☒ A. 5%
- B. 1%
- C. 2%
- D. 2,5%
- E. 4%

$$\begin{array}{l} 75\% \\ 100\% - 75\% = 25\% \\ \frac{4}{5} \times 25\% = 20\% \\ 25\% - 20\% = 5\% \end{array}$$

IV. KEMAMPUAN ANALISA

Pertanyaan nomor 86 sampai 90 didasarkan pada bacaan berikut.

Dalam rangka menyikapi keinginan masyarakat, suatu lembaga pengkajian bermaksud memberikan masukan di dalam pelaksanaan PEMILU. Pimpinan lembaga tersebut memberi tugas kepada satu tim yang terdiri dari tiga orang untuk menyusun konsep tersebut. Anggota tim diambil dari pakar lembaga tersebut yang terdiri dua orang laki-laki : Fani dan Irfan, dan tiga perempuan : Adis, Anti dan Firda. Anggota tim tidak boleh terdiri dari satu jenis kelamin. Adapun keadaan anggota tim adalah :

www.cpnsonline.com

- Firda orangnya luwes
- Adis tidak pernah cocok dengan Fani, mereka suka ribut
- Adis merupakan pakar yang paling cerdas namun sifatnya tertutup
- Anti kepemimpinannya sangat menonjol

86. Jika dalam tim itu hanya ada seorang pria, maka berapa banyak kemungkinan komposisi tim dapat dibuat

- A. 6
- B. 2 ✓
- C. 3
- D. 4
- E. 5

87. Jika tim memerlukan seorang yang kuat dalam mengkordinasikan para anggotanya, maka komposisi tim berikut ini adalah tidak cocok, kecuali:

- A. Firda, Adis, Fani
- B. Anti, Adis, Fani
- C. Irfan, Adis, Anti ✓
- D. Irfan, Fani, Adis
- E. Firda, Adis, Anti

88. Jika pimpinan lembaga meminta anggota pakar yang paling cerdas untuk memimpin tim, maka pernyataan berikut adalah benar, kecuali:

- A. Adis, Irfan, Fani tidak mungkin merupakan tim
- B. Salah satu kemungkinan tim adalah: Adis, Firda, Irfan ✓
- C. Irfan dan Fani tidak dapat menjadi anggota tim bersama
- D. Tim yang dibentuk mesti, Adis, Anti, Irfan
- E. Anti, Firda, Irfan bukan tim yang dimaksud

89. Jika dalam tim itu hanya ada seorang perempuan, maka berapa banyak kemungkinan komposisi tim dapat dibentuk?

- A. 2
- B. 3
- C. 4
- D. 5
- E. 1 ✓

90. Pakar yang paling banyak kemungkinannya dapat menjadi anggota tim adalah:

- A. Fani
- B. Adis
- C. Anti
- D. Firda
- E. Irfan

Soal nomor 91 sampai 95 adalah pernyataan berupa informasi-informasi. Anda diminta menganalisa informasi itu dan kemudian memilih satu alternatif jawaban yang paling tepat.

91. Siti cantik dan pintar

- A. Susi dan Siti tidak pintar tapi cantik
- B. Indah dan Siti Pintar
- C. Lola dan Dona tidak pintar
- D. Tuti dan Mery tidak cantik
- E. A, B, C, D, salah

92. Dalam suatu kompetisi sepak bola, kesebelasan Persija menang atas Persebaya dengan skor 3-0. Kesebelasan Persib kalah atas Semen Padang dengan skor 1-2. Kesebelasan Semen Padang menang atas Persija dengan skor 2-0. Kesebelasan mana yang menjuarai kompetisi tersebut?

- A. Persija dan Semen Padang seri
- B. Persija
- C. Persib
- D. Semen Padang
- E. Persebaya

93. Adi adalah anak dari pasangan suami istri Joko dan Ranti. Herman anak dari pasangan Budi dengan adiknya Joko. Hubungan antara Adi dengan Herman adalah:

- A. Adik sepupu
- B. Adik misan
- C. Saudara sepupu
- D. Saudara misan
- E. Saudara ipar

94. Anisa menyukai Fredi. Siapa yang menyukai Fredi menyukai Adji. Anisa menyukai hanya laki-laki tampan. Maka :

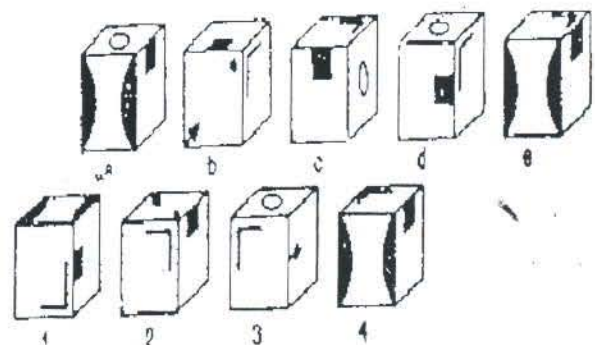
- A. Adji adalah laki-laki tampan
- B. Fredi dan Adji menyukai Anisa
- C. Fredi menyukai Anisa
- D. Adji adalah bukan laki-laki tampan
- E. A, B, C, D, bukan jawaban yang benar

95. Susan adiknya Joni dan kakak sepupu Santi. Hari kakaknya Susan dan lebih muda dari Joni dan usianya sama dengan kakaknya Santi, Sinta. Siapakah yang paling muda usianya?

- A. Joni
- B. Santi
- C. Hari
- D. Sinta
- E. Susan

Soal Nomor 96 sampai dengan 100 berdasarkan gambar kubus berikut. Ada dua kelompok kubus, satu kelompok gambar A, B, C, D, E dan lainnya kelompok gambar 1, 2, 3, 4 yang terletak di bawahnya. Tugas anda mencari pasangan yang sesuai antara kelompok nomor (yang di bawah) dengan kelompok huruf (yang di atas) dengan cara memutar dan membolak-balik gambar dalam pikiran anda.

www.cpnsonline.com



96. A. 1-b
B. 1-c
C. 1-d
D. 1-e
E. 1-a

97. A. 2-c
B. 2-d
C. 2-e
D. 2-a
E. 2-b

98. A. 3-d
B. 3-e
C. 3-a
D. 3-b
E. 3-c

www.cpnsonline.com

99. A. 4-c
B. 4-a
C. 2-b
D. 3-d
E. 1-e

100. A. 4-b
B. 4-d
C. 4-e
D. 4-c
E. 4-a

www.cpnsonline.com

Panitia DEPAG Pusat 2005

A B

30 km

dit: 20 km/jam + 1,5 jam

30 km = 60 menit
20 km/jam = 1 jam
1 jam + 1,5 jam = 2,5 jam



Kumpulan Eksklusif
Soal-Soal CPNS, Jawaban dan Pembahasannya
CPNSONLINE INDONESIA
Terlengkap, Terbaik, dan Terbukti Sukses di Indonesia

BERISIKAN:

- ✓ Prediksi Soal-Soal Ujian CPNS 2013
- ✓ Kumpulan Tes Kemampuan Dasar (TKD) Tahun CPNS 2013
- ✓ Kumpulan Tes Kemampuan Bidang (TKB) CPNS 2013 semua Kementerian, lembaga dan instansi, dan Pemerintah Daerah Provinsi dan Kota/ Kabupaten.
- ✓ Tes Psikotes dan Wawancara CPNS 2013
- ✓ Kumpulan Soal Tes khusus Tenaga Honorer (K1 dan K2) CPNS 2013
- ✓ Kumpulan Soal-Soal Ujian CPNS Sejak Tahun 2003
- ✓ Kumpulan Program dan Software CPNS Terbaik dan Pilihan
- ✓ Kumpulan Ebook Soal CPNS Penunjang Ujian CPNS 2013
- ✓ Panduan Lengkap Pendaftaran CPNS Indonesia 2013
- ✓ Latihan TES CPNS melalui Computer Assisted Test (CAT) CPNSONLINE INDONESIA
- ✓ Learning Soal CPNS: Pembahasan Soal CPNS Terbaik dan eksklusif
- ✓ Forum Diskusi dan berbagi Informasi CPNS Indonesia 2013
- ✓ Link Download File Persyaratan dan Hasil Seleksi CPNS
- ✓ Modul Prajabatan CPNS bagi Peserta Lulus Seleksi CPNS 2013
- ✓ Terapi Musik Untuk Persiapan Ujian CPNS 2013
- ✓ Program Reseller Paket CPNSONLINE INDONESIA

FOR MORE INFORMATION:

WWW.CPNSONLINE.COM

Contact: 0815.700.8022

Pin BB: 2A746434

Email: admin@cpnsonline.com