



9. Sekarang pukul 07.00  
Lima jam lagi pukul ....
- a. 08.00
b. 12.00
c. 00.12



10. Jam digital di atas menunjukkan pukul ....
- a. Sebelas tepat
b. Sebelas lebih tiga menit
c. Sebelas lebih tiga puluh menit
11. Penggaris adalah alat untuk mengukur ....
- a. Waktu
b. Panjang
c. Berat badan
12. Lebih mudah dan tepat mengukur panjang buku menggunakan ....
- a. Mistar
b. Meteran
c. Jari
13. Satuan yang biasa digunakan untuk mengukur benda yang ukurannya pendek adalah ....
- a. Sentimeter
b. Senter
c. Jengkal
14. Ukuran 1 meter sama dengan ..... sentimeter
- a. 10
b. 100
c. 1.000
15. Budi punya meja sepanjang 200 cm  
Panjang meja budi sama ukurannya dengan ....
- a. 1 m
b. 20 m
c. 2 m
16. Rani punya tongkat sepanjang 50 cm  
Sinta punya tongkat sepanjang 65 cm  
Lina punya tongkat sepanjang 47 cm  
Tongkat yang lebih panjang adalah milik ....
- a. Sinta
b. Lina
c. Rani
17. Budi berat badannya 25 Kg  
Ali berat badannya 30 Kg  
Berat badan budi ..... dari Ali.
- a. Sama
b. Lebih berat
c. Lebih ringan
18. Berat pensil biasanya lebih .... dari buku.
- a. Ringan
b. Berat
c. Kuat
19. Satuan gram disingkat menjadi ....
- a. Kg
b. Cg
c. g

20. 1 Kg sama dengan ....
- a. 100 gram

b. 1.000 gram

c. 10 gram




21. Berat semangka di atas adalah ....
- a. 3 Kg

b. 4 Kg

c. 5 Kg

Perhatikan gambar-gambar ini dengan baik untuk mengisi soal nomor 22 – 25!




Anggur



Semangka



Jeruk



Apel

22. Buah yang paling berat adalah buah ....
- a. Semangka

b. Apel

c. Jeruk
23. Berat buah jeruk lebih .... dari buah anggur.
- a. Berat

b. Ringan

c. Sama
24. Berat buah anggur lebih .... dari buah apel.
- a. Berat

b. Ringan

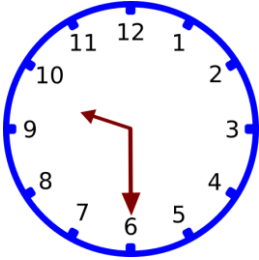
c. Kecil
25. Buah yang lebih berat dari buah anggur adalah buah ....
- a. Jeruk

b. Semangka

c. Apel

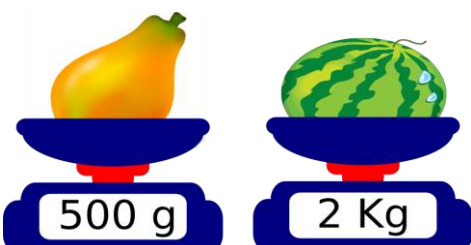
**B. JAWABLAH PERTANYAAN-PERTANYAAN BERIKUT INI DENGAN BENAR!**

1. Pukul tujuh lebih tiga puluh menit jika ditulis angka menjadi ....
2. Lima jam setelah pukul 09.00 adalah pukul ....
3. Doni mulai bermain pukul 15.00  
Doni pulang bermain pukul 17.00  
Doni bermain selama ....



4. gambar jam di samping adalah pukul ....

5. Ayuk mulai belajar pukul 08.00  
Ayuk belajar selama tiga jam  
Ayuk selesai belajar pukul ....
6. Panjang penggaris adalah 30 sentimeter  
Satuan panjang yang digunakan di atas adalah ....
7. Andi mempunyai pita sepanjang 3 m  
3 m sama dengan ..... cm.
8. Risa mempunyai 2 pita  
Panjang pita biru 75 cm dan panjang pita merah 48 cm  
Panjang pita semuanya adalah ....
9. Bayu mempunyai tali sepanjang 3 meter  
Rina mempunyai tali sepanjang 200 sentimeter  
Riko mempunyai tali sepanjang 150 sentimeter  
Tali yang paling panjang dimiliki oleh ....
10. Timbangan adalah salah satu alat untuk mengukur ....
11. Kg adalah kepanjangan dari ....
12. Ahmad punya kue coklat 45 Kg dan kue bolu 28 Kg  
Berat semuanya adalah ....



13. Buah pepaya dan buah semangka di atas yang lebih berat adalah buah ....



14. Antara buah apel dan buah anggur pada timbangan di atas, buah yang lebih berat adalah buah ....
15. Ayah membeli tiga plastik buah jeruk. Setiap plastik berisi 50 Ons jeruk. Total buah jeruk tersebut sama dengan ..... Ons.



## KUNCI JAWABAN SOAL ULANGAN HARIAN MATEMATIKA KELAS 2 SD BAB 4 PENGURAN WAKTU, PANJANG DAN BERAT

### A. JAWABAN

1. c. Waktu
2. b. 10.00
3. b. 12.00
4. a. 02.00
5. c. 06.00
6. a. D
7. b. Empat lebih tiga puluh menit
8. c. 1 jam
9. b. 12.00
10. c. Sebelas lebih tiga puluh menit
11. b. Panjang
12. a. Mistar
13. a. Sentimeter
14. b. 100
15. c. 2 m
16. a. Sinta
17. c. Lebih ringan
18. a. Ringan
19. c. g
20. b. 1.000 gram
21. a. 3 Kg
22. a. Semangka
23. b. Ringan
24. a. Berat
25. b. Semangka

### B. JAWABAN

1. 07.30
2. 14.00
3. 2 jam
4. 09.30
5. 11.00
6. sentimeter
7. 300 cm
8.  $75 \text{ cm} + 48 \text{ cm} = 123 \text{ cm}$
9. Bayu
10. Berat / massa
11. Kilogram
12.  $45 \text{ Kg} + 28 \text{ Kg} = 73 \text{ Kg}$
13. Semangka
14. Anggur
15.  $50 \text{ ons} + 50 \text{ Ons} + 50 \text{ Ons} = 150 \text{ Ons.}$